

Nombre y apellidos:

Curso: Fecha:

ASIA

Asia tiene una **extensión** de 43,6 millones de km², siendo, por tanto, el continente más grande de la Tierra. Está **situado** entre la cordillera de los Urales y los océanos Glacial Ártico, Pacífico e Índico.

Su **relieve** se caracteriza por presentar una elevada altitud debido a la existencia de cordilleras jóvenes como el Himalaya, donde se halla el Everest, y elevadas mesetas como la del Tíbet o la de Siberia.

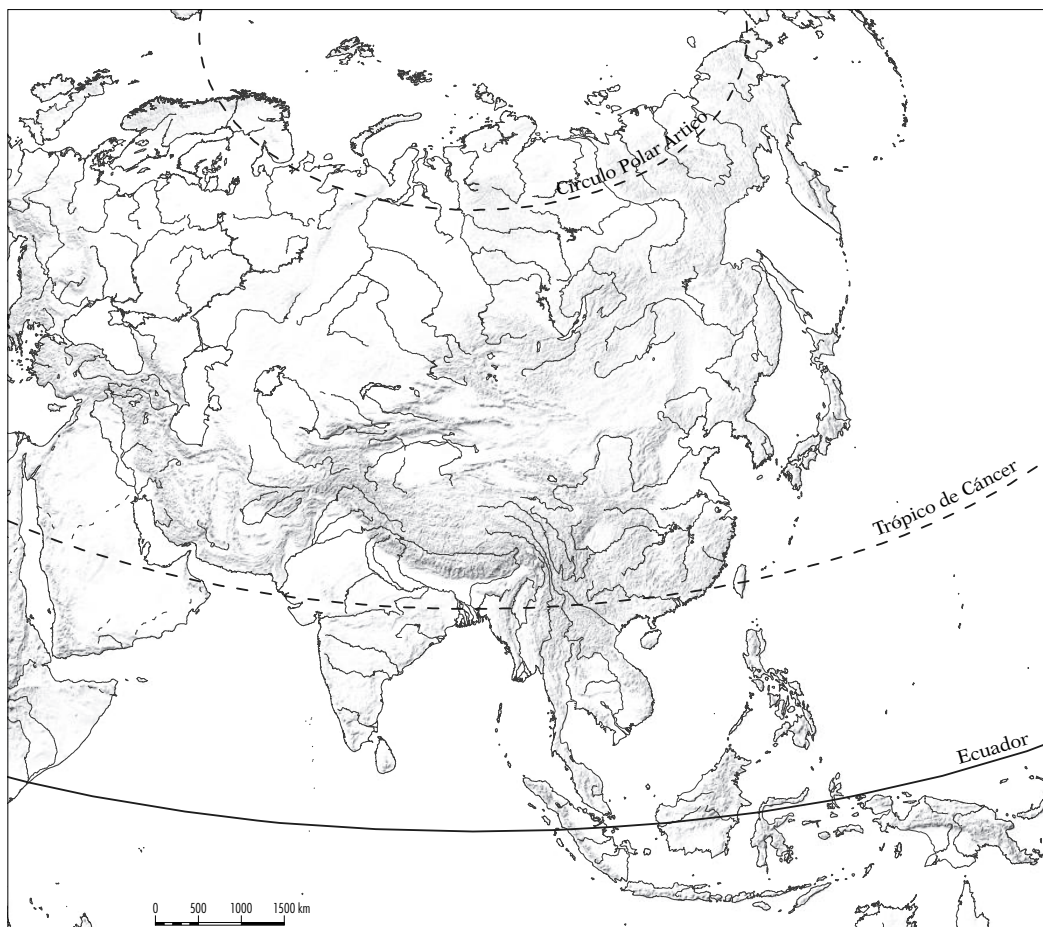
Las **costas** tienen numerosos entrantes y salientes, con penínsulas como las de Corea, Indochina o Malaca, y grandes golfos como el golfo Pérsico o el de Ton-

kín. También cuenta con numerosas islas, como la de Sri Lanka o los archipiélagos que forman Japón, Filipinas e Indonesia.

Los **ríos** son largos y caudalosos. Destacan el Obi, el Yeniséi y el Lena, que desembocan en el océano Glacial Ártico; el Amur, el Huang He y el Yangtsé, que desembocan en el océano Pacífico, y el Ganges y el Indo, que lo hacen en el océano Índico.

Los **lagos** más importantes son el Aral, el mar Muerto y el Caspio (los tres de agua salada), y el Baikal (de agua dulce).

- 1 En el mapa inferior, sitúa en su lugar correspondiente los siguientes nombres: Himalaya, Siberia, Sri Lanka, Indochina, golfo Pérsico, océano Índico, Filipinas y mar Caspio.



Nombre y apellidos:

2 La extensión de España es de 505 990 km², y la de Asia, 43,6 millones de km².
¿Cuántos países como España cabrían en Asia?

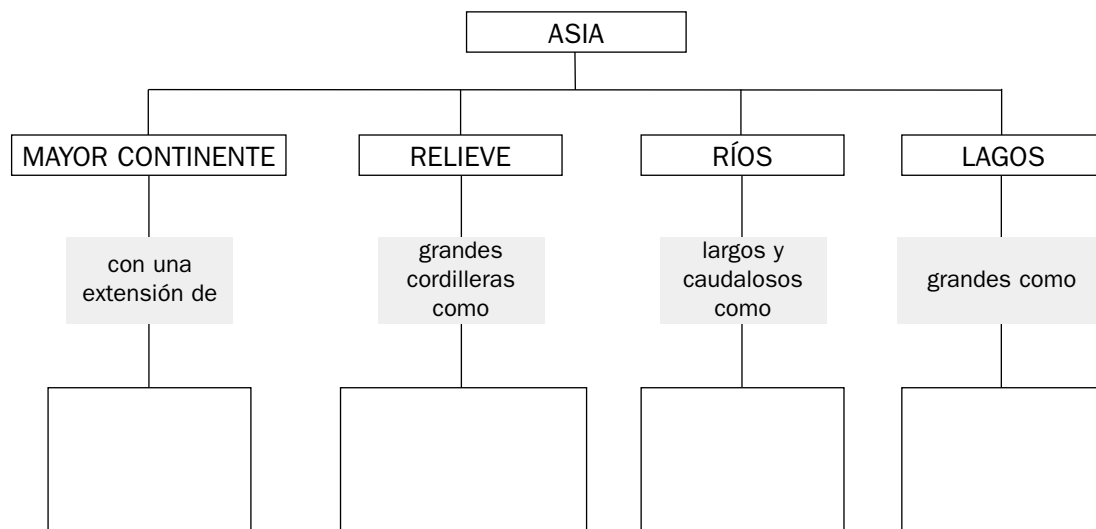
3 ¿Por qué crees que la altitud de Asia es elevada?

4 Sitúa los nombres siguientes en el recuadro que les corresponda.

Obi	Himalaya	Mar Caspio	Yangtsé	Zagros	Formosa
Lena	Baikal	Huang He	Mekong	Ceilán	Amur
Tibet	Decán	Indo	Aral	Filipinas	Sumatra

CORDILLERAS	MESETAS	ISLAS	RÍOS	LAGOS

5 Completa el siguiente esquema.



Nombre y apellidos:

Curso: Fecha:

AMÉRICA

América se **sitúa** entre los océanos Atlántico y Pacífico, y con 42,9 millones de km² es el segundo continente más extenso de la Tierra.

El **relieve** se caracteriza, al oeste, por elevadas cordilleras como las Montañas Rocosas, Sierra Madre y la cordillera de los Andes. Al este presenta macizos antiguos y mesetas de modesta altitud. En el centro se extienden amplias llanuras como

las de América del Norte, o la Pampa en América del Sur.

Las **costas** son recortadas en América del Norte, con importantes penínsulas como las del Labrador, Florida o California, y más rectilíneas en América del Sur.

Los **ríos** desembocan mayoritariamente en el Atlántico. Algunos son largos y caudalosos, como el Yukón, el Mississippi, el Orinoco, el Amazonas y el Paraná.

- 1 En el mapa, sitúa en su lugar correspondiente los siguientes nombres: Montañas Rocosas, Andes, Sierra Madre, península de Alaska, Florida y California.



Nombre y apellidos:

2 Sitúa los siguientes nombres en el recuadro que les corresponda.

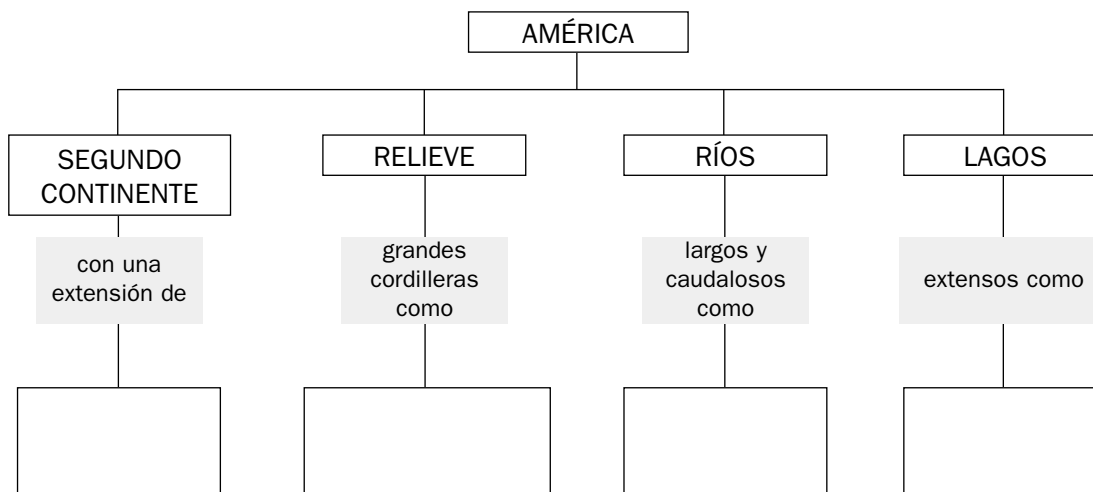
- Yukón Mississipi Andes Cuba Ontario Pampa
 Sierra Madre Míchigan Amazonas Antillas Terranova Paraná

CORDILLERAS	MESETAS	ISLAS	RÍOS	LAGOS

3 Subraya dónde está el error en las frases que siguen y, después, escríbelas correctamente en la parte inferior.

- La mayor parte de los ríos americanos desembocan en el Pacífico.
- En el oeste predominan los macizos antiguos de escasa altitud.
- América es el tercer continente más extenso del mundo.
- El continente americano está constituido por un solo conjunto compacto.
- El Míchigan es uno de los ríos más importantes de América.
- El Amazonas es el río más pequeño del continente americano.
- La cordillera más importante de América es la de Sierra Madre.

4 Completa los recuadros en blanco.



Nombre y apellidos:

Curso: Fecha:

ÁFRICA

África se **sitúa** entre el mar Mediterráneo, el océano Índico y el océano Atlántico. Con 30,3 millones de km² es el tercer continente en extensión.

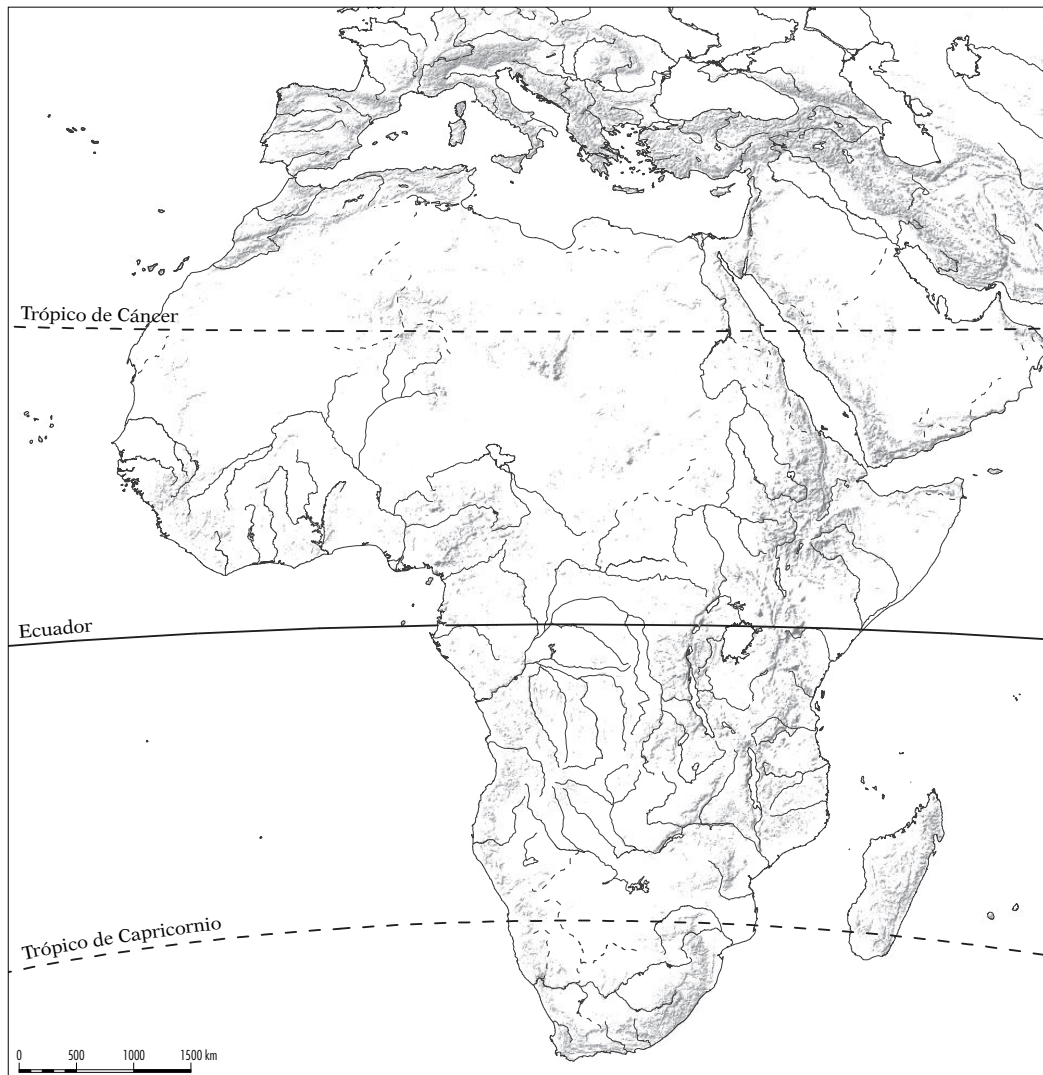
El **relieve** presenta en el interior extensas mesetas, interrumpidas por macizos montañosos como el de Tibesti, y cubetas o zonas deprimidas como las del Chad y Congo. En el este se encuentra una fractura o fosa tectónica, el Rift Valley, donde

se dan las mayores alturas de África, como el Kilimanjaro. Al norte y al sur presenta cordilleras jóvenes, como la del Atlas y los montes Drakensberg.

Las **costas** son rectilíneas y poco accidentadas, destacando la península de Somalia, el golfo de Guinea y el cabo de Buena Esperanza.

Las **islas** son escasas, sobresaliendo la de Madagascar.

- 1** En el mapa, sitúa en su lugar correspondiente los siguientes nombres: macizo de Tibesti, Rift Valley, montes Drakensberg, golfo de Guinea, Madagascar y Madeira.



Nombre y apellidos:

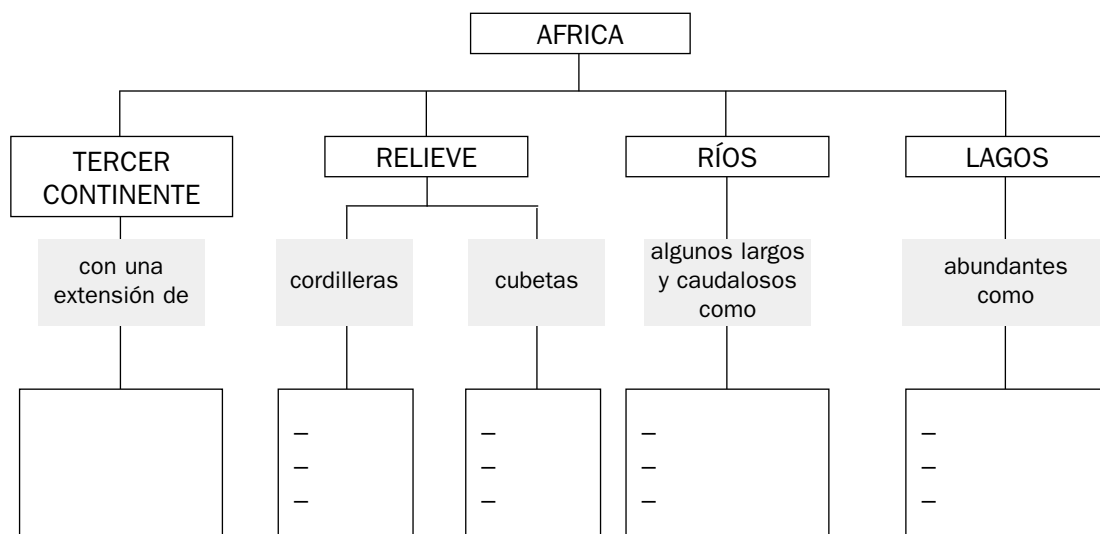
2 La extensión de España es de 505 990 km², y la de África, 30,3 millones de km².
¿Cuántos países como España cabrían en África?

3 Sitúa los siguientes nombres en el recuadro que les corresponda.

Atlas Tibesti Congo Níger Victoria Nilo
Drakensberg Zambeze Kilimanjaro Tanganika Madagascar Madeira

CORDILLERAS	PICOS	ISLAS	RÍOS	LAGOS

4 Completa los recuadros en blanco.



Nombre y apellidos:

Curso: Fecha:

OCEANÍA Y LA ANTÁRTIDA

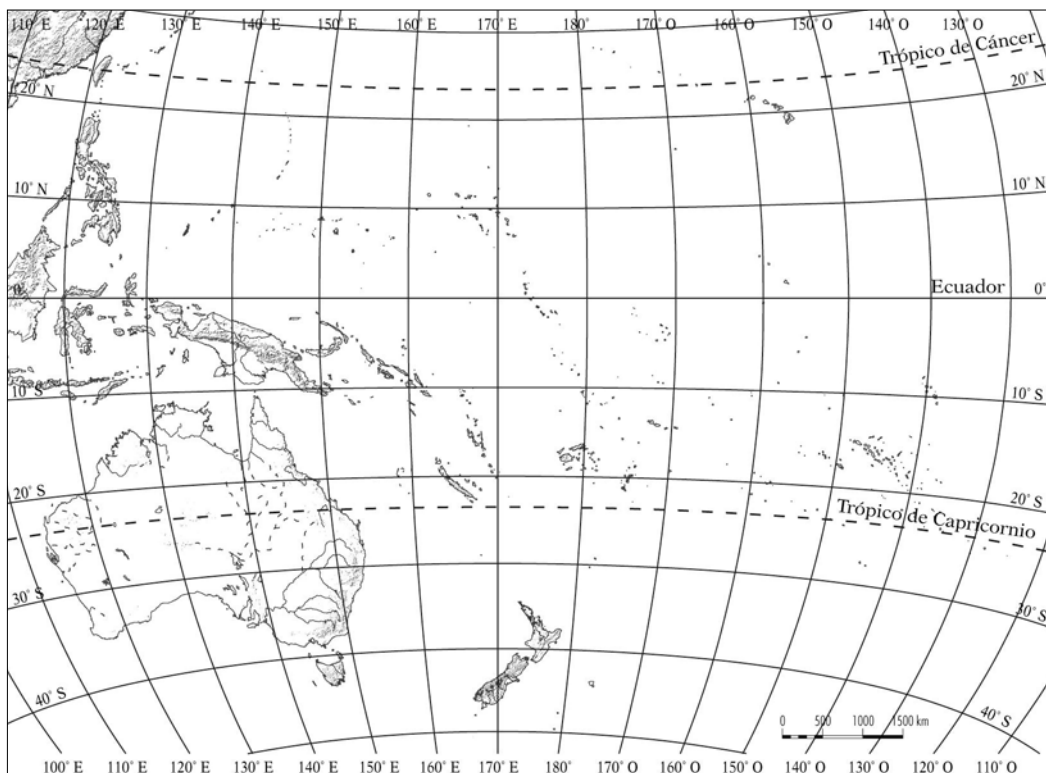
Oceanía se compone de más de tres mil islas agrupadas en varios archipiélagos diseminados por el océano Pacífico. Las más extensas son Australia, Nueva Guinea y las de Nueva Zelanda. El resto de las islas se agrupan en tres amplias regiones denominadas Melanesia, Micronesia y Polinesia.

Muchas de estas islas tienen un origen volcánico, y otras son coralinas, formadas a partir de arrecifes de coral.

La **Antártida** es un continente cubierto de hielo, en cuyo centro se sitúa el Polo Sur. Está prácticamente deshabitado, debido a sus bajas temperaturas, y en él se localizan los mayores glaciares del planeta.

1 Sitúa en el mapa de Oceanía los siguientes nombres:

- Nueva Zelanda Polinesia Micronesia Melanesia Nueva Guinea
- Tasmania Hawai Cordillera Divisoria Islas Cook Islas Salomón
- Australia Mar del Coral Mar de Tasmania Mar de Timor Mar de Salomón

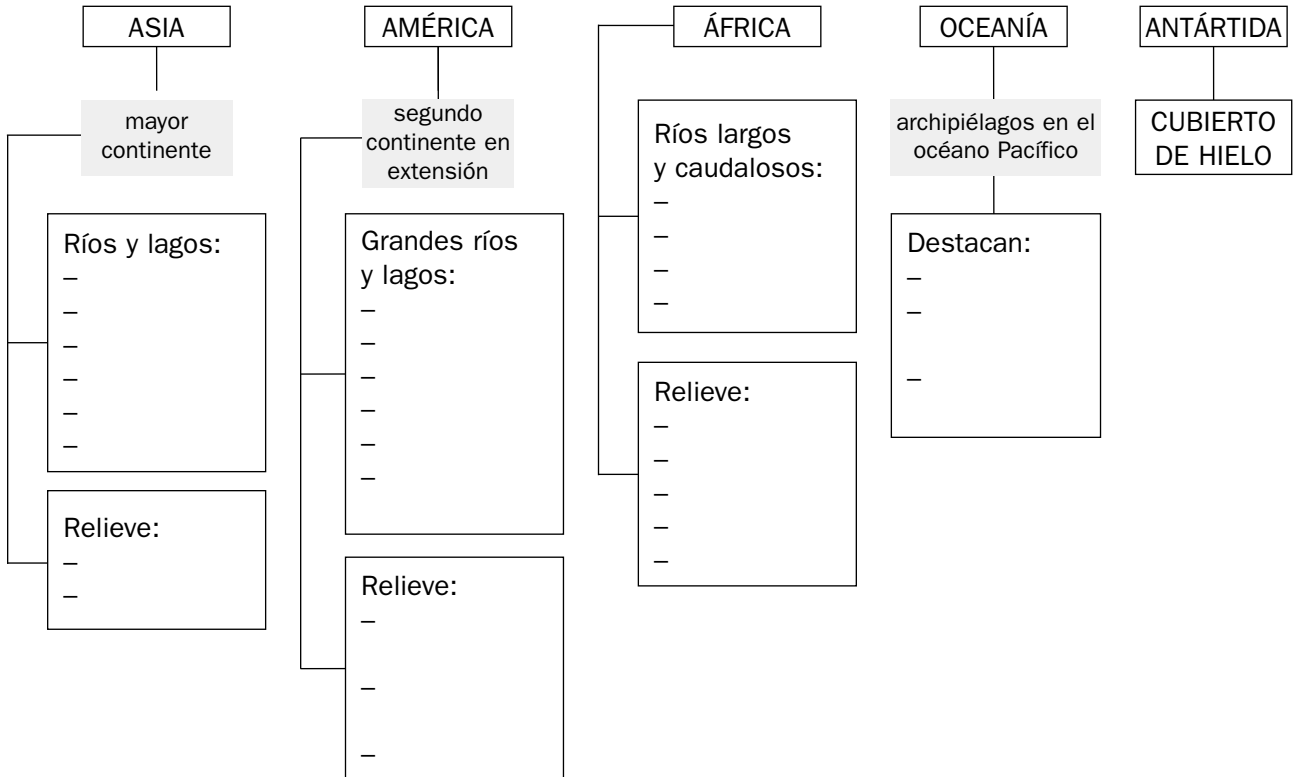


El relieve y las aguas de los continentes

Nombre y apellidos:

Curso: Fecha:

ESQUEMA DE LA UNIDAD



El relieve y las aguas de los continentes

Nombre y apellidos:

Curso: Fecha:

ACTIVIDADES DE AUTOEVALUACIÓN

1 Indica cuáles de los siguientes nombres corresponden a cada uno de los continentes y colócalos en el recuadro correspondiente.

Indo Amazonas Meseta del Tíbet Caspio Notario Apalaches
 Himalaya Atlas Montes Tibesti Yangtsé Yukón Polo Sur
 Ganges Paraná Cordillera Divisoria Everest Formosa Titicaca

ASIA	AMÉRICA	ÁFRICA	OCEANÍA	ANTÁRTIDA

2 Señala si las afirmaciones que siguen son verdaderas o falsas.

- Asia es el segundo continente en extensión.
- África tiene extensas cubetas interiores.
- El río más grande de América es el Orinoco.
- Oceanía está formada por cuatro islas.
- Siberia está en América del Norte.
- El río Yangtsé es un gran río de África.
- Australia es la mayor isla de Asia.

3 Completa las siguientes frases:

- El río más caudaloso del mundo es el
- La cordillera más elevada de la Tierra es la del
- El continente más grande del planeta es
- El monte más alto del mundo es el
- La isla más grande de Oceanía es
- La cordillera más elevada de América es la de los